

单元素养测评 (一)

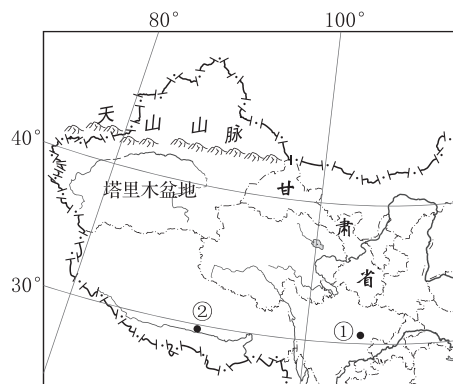
第一单元 地理环境与区域发展

本试卷分第 I 卷(选择题)和第 II 卷(非选择题)两部分。第 I 卷 48 分,第 II 卷 52 分,共 100 分。

第 I 卷 (选择题 共 48 分)

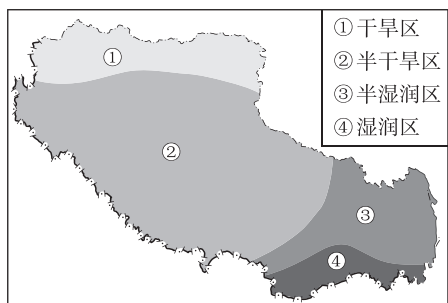
一、选择题(本大题共 16 小题,每小题 3 分,共 48 分。每小题列出的四个备选项中只有一个是符合题目要求的,不选、多选、错选均不得分)

读中国局部图,完成 1~2 题。



- 甘肃省与塔里木盆地 ()
 - 划分指标不同
 - 行政等级相同
 - 均有明确边界
 - 地理位置相同
- ①②两地纬度相近,但地理环境差异显著,造成这种差异的主要因素是 ()
 - 植被
 - 水源
 - 地形
 - 土壤

下图为西藏自治区以某种自然指标划分出来的四大区域图。据此完成 3~5 题。




- 这四大区域的划分指标是 ()
 - 积温的大小
 - 降水量和蒸发量的关系
 - 年降水量的大小
 - 年太阳辐射总量的大小
- 下列有关这四大区域的叙述,错误的是 ()
 - 区域界线是明确的
 - 区域内部具有整体性
 - 四大区域相互联系
 - 区域之间具有差异性
- 图中从④至①变化的主要原因是 ()
 - 地形的差异
 - 纬度的差异
 - 植被的差异
 - 夏季风影响的差异

下图中,图甲示意土家族的吊脚楼,图乙示意内蒙古自治区便于拆卸的蒙古包。据此完成 6~8 题。



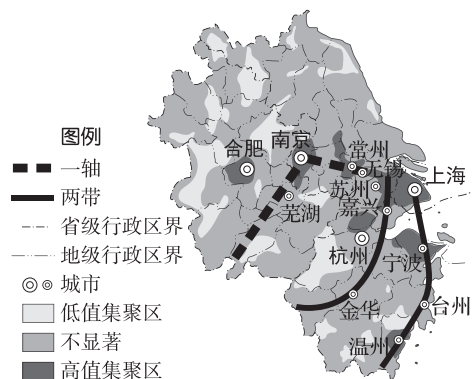
- 图甲传统民居建筑特点形成的自然原因是当地 ()
 - 多高大通直的白桦林
 - 人多地少,民族众多
 - 多蚊虫、毒蛇,气候潮湿
 - 多地势平缓的丘陵
- 图乙民居中居住的游牧民族在转场放牧过程中 ()
 - 加大了草场资源的压力
 - 易受暴风雪等天气影响
 - 加剧了当地生态恶化
 - 只有夏季可获得牧草
- 目前两种特色民居在当地越来越少,这种变化带来的影响是 ()
 - 民居文化多样性减弱
 - 游客的居住体验感增强
 - 有利于特色民居保护
 - 居民环境适应力降低

图甲示意山西省忻州市河头村黄土高原民居(窗户分为上下两层,上面为白色的麻纸,下面为玻璃),图乙示意海南省昌江黎族自治县王下乡洪水村的“金”字形茅草屋。据此完成 9~11 题。



- 图甲的窗户上面是麻纸,下面是玻璃,其原因是 ()
 - 夏季增强太阳辐射;冬季削弱太阳辐射,散失热量
 - 夏季削弱太阳辐射;冬季阻挡大气辐射,热量不易散失
 - 夏季增强大气逆辐射;冬季削弱太阳辐射,散失热量
 - 夏季增强地面辐射;冬季削弱地面辐射,热量不易散失
 - “金”字形茅草屋屋顶的两端用藤条搭成不封闭的网格的原因是 ()
 - 防止蛀虫
 - 抵御台风
 - 美观大方
 - 空气流通
 - 甲、乙两地民居景观不同的主要影响因素是 ()
 - 气候
 - 距海远近
 - 海拔
 - 生活习惯
- [2023—2024·河北张家口月考] 秦岭—淮河一线是我国一条重要的地理分界线。据此回答 12~13 题。
- 关于秦岭—淮河一线南北地区的叙述,正确的是 ()
 - 以北地区耕地以旱地为主,主要粮食作物是水稻
 - 以南地区耕地以水田为主,主要油料作物是油菜
 - 以北地区的植被主要是亚寒带针叶林
 - 以南地区的植被主要是热带季雨林和热带雨林
 - 关于我国南方与北方特征差异的描述,正确的是 ()
 - 矿产资源:北方煤炭、石油、铁矿丰富,南方有色金属丰富
 - 限制因素:北方水源不足,南方热量不足
 - 工业结构:北方以能源工业为主,南方以重工业为主
 - 农业生产:北方自然条件差,无商品粮基地,南方水热条件好,水稻种植广泛

“专精特新”是指中小企业具备专业化、精细化、特色化、新颖化的特征,“专精特新”中小企业中的佼佼者被称为“小巨人”企业。下图示意长江三角洲地区“小巨人”企业分布格局。读图完成14~16题。



14. 从“小巨人”企业分布格局看,内部经济发展水平差异最大的是 ()
- A. 上海 B. 江苏
C. 安徽 D. 浙江
15. “小巨人”企业较多的合肥未能进入“一轴两带”,主要受制于 ()
- A. 经济规模 B. 交通条件
C. 海陆位置 D. 产业联系
16. “一轴两带”的空间格局对“小巨人”企业的主要影响是 ()
- A. 提供大量优质土地 B. 扩大本地市场范围
C. 巩固协同创新基础 D. 大幅降低用工成本

请将选择题答案填入下表:

题号	1	2	3	4	5	6	7	8	9
答案									
题号	10	11	12	13	14	15	16	总分	
答案									

第Ⅱ卷 (非选择题 共52分)

二、非选择题(共2小题,共52分)

17. (26分)[2023—2024·湖南祁东月考] 阅读图文材料,完成下列要求。

印度西北部地区一年中仅有6—8月为雨季,为此古印度人开凿了独具特色的阶梯井,可以让村民在旱季时更容易获取水源。月亮井是规模最大的阶梯井,是古代印度文明的标志性建筑物,具有明显的宗教文明色彩,距今已有1200年历史。过去,每年都会有南亚的贸易商队从月亮井边经过。这口井由

3500级阶梯构成,呈倒三角的形式向下延伸约30米;四面都有台阶,可以方便人们从各个角度下到井里去取水;同时井底部也有闸门用以提升水位,在需要用水的季节将水位升至3~4层的位置。下图为印度月亮井的景观图。



(1) 指出月亮井取水最为困难的月份并说明理由。(8分)

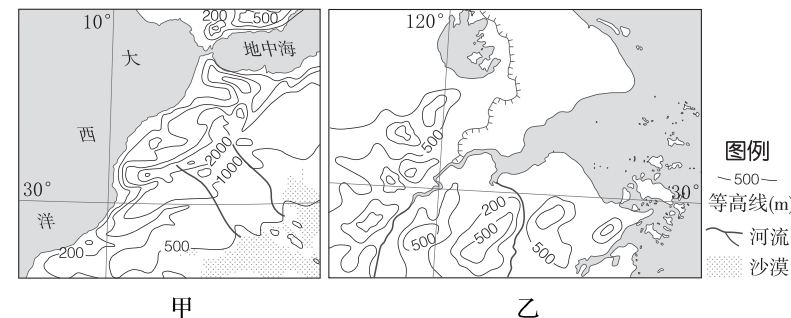
(2) 概括月亮井的主要用途。(6分)

(3) 分析如今印度绝大多数阶梯井已经废弃的原因。(6分)

(4) 简述保护阶梯井的措施。(6分)

18. (26分) 阅读图文材料,完成下列各题。

下图示意甲、乙两区域地理位置和等高线分布。甲区域东南侧全年干热,沙漠广布,但沙漠边缘有喜温湿的棕榈分布;西北部花木繁茂,风景如画。乙区域范围内景观差异则不明显。



(1) 比较甲、乙两区域地理位置的异同。(8分)

(2) 分析甲、乙两区域内部地理景观差异程度不同的原因。(10分)

(3) 说明甲区域沙漠边缘有喜温湿的棕榈分布的原因。(8分)